




Português



XANDE, E O SEU CÃO MAX



Xande ganhou um belo cão de raça.

O cão veio com uma linda coleira fixa no pescoço. Nela estava gravado o seu nome: Max.

Xande aproximou-se de Max e exclamou:

— Agora, serei o seu novo dono, Max!

Xande exagera nos carinhos e promete ao cão levá-lo para participar da próxima exposição de cães da cidade!

Ele acha que o seu cachorro é mesmo o máximo.

Graça Boquet



ATIVIDADE DE REVISÃO
Português

3º ano

2) Quem ganhou um cão de raça?

Alex. Max. Xande.

3) Onde estava gravado o nome do cão?

4) Xande promete levar Max:

- ao sítio.
 à exposição de cães.
 ao parque de diversões.



5) Coloque em ordem alfabética as palavras abaixo.

1-	_____
2-	_____
3-	_____
4-	_____
5-	_____
6-	_____
7-	_____

**máximo – Xande
caixote – próxima
fixa – aproximou
exposição**



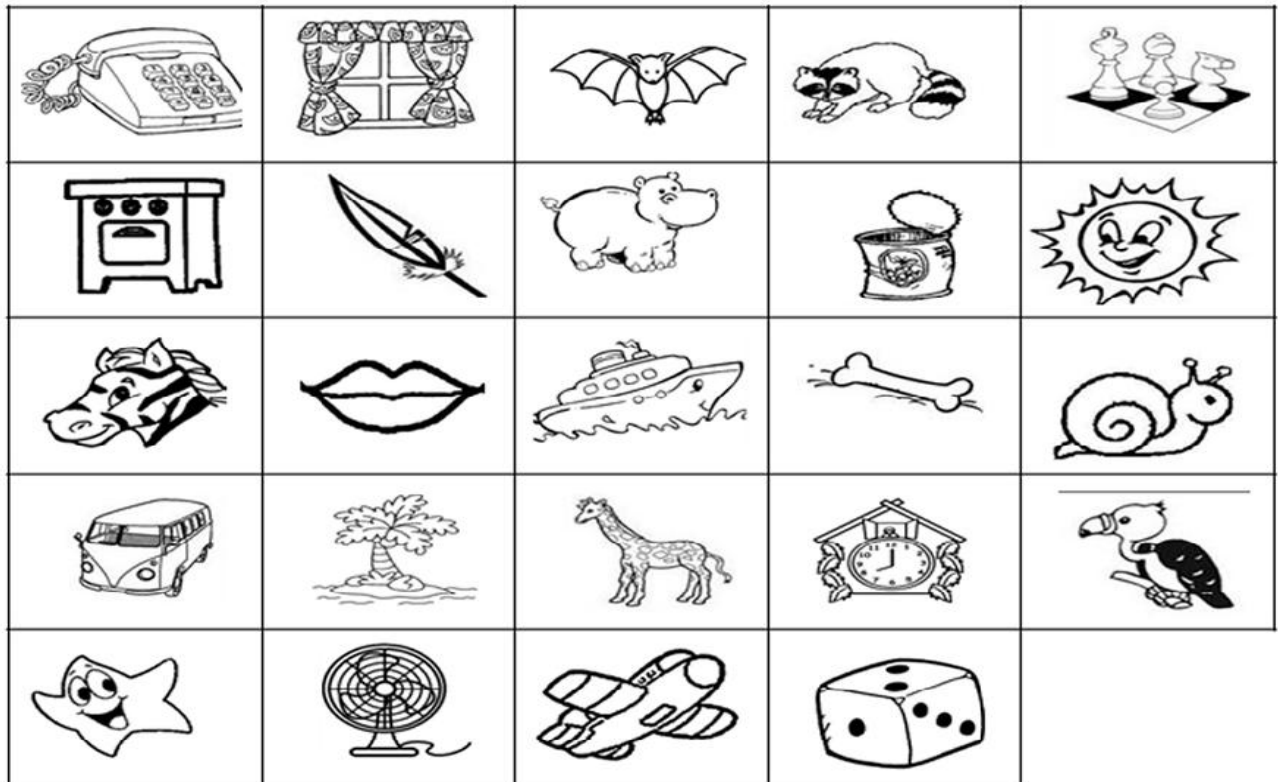


ATIVIDADE DE REVISÃO

3º ano

Português

COLOQUE CADA FIGURA EM SUA ORDEM ALFABÉTICA



1	9	17
2	10	18
3	11	19
4	12	20
5	13	21
6	14	22
7	15	23
8	16	24

ATIVIDADE DE REVISÃO Português

3º ano


LEILÃO DE JARDIM

Quem me compra um jardim
Com flores?
Borboletas de muitas cores,
Lavadeiras e passarinhos,
Ovos verdes e azuis nos ninhos?
Quem me compra este caracol?
Quem me compra um raio de sol?
Um lagarto entre o muro e a hera,
Uma estátua da Primavera?
Quem me compra este formigueiro?
E este sapo, que é jardineiro?
E a cigarra e a sua canção?
E o grilo dentro do chão?
(Este é o meu leilão!)



*Ou Isto Ou Aquilo - Editora Nova
Fronteira. Cecília Meireles*

 O que está à venda na poesia acima?

 Circule na poesia e depois escreva abaixo uma palavrinha que tenha o **M** antes do **P** e duas que terminem com **M**.

--	--	--

 O que havia no jardim?

--	--	--	--




ATIVIDADE DE REVISÃO

3º ano

Português

Vamos aprender a separar o meu nome? Veja como é fácil!



BOMBOM — BOM — BOM

Quero ver se aprendeu direitinho.

BOMBA			
TOMBO			
NUVEM			
TAMBÉM			
ZUMBIDO			



Complete as palavras abaixo. Lembre-se: antes de P e B usa-se a letra M




E __ PADA	E __ BAIXO	
TE __ PO	TA __ BÉ __	PO __ BA
LI __ PO	CA __ PO	BO __ BEIRO



ATIVIDADE DE REVISÃO
Português

3º ano

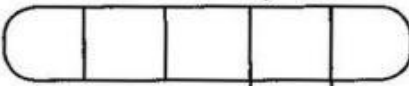


CRUZADINHA DO MP E MB

1) Escreva as palavras na cruzada de acordo com os numerais.



6 →




1 ↓

2 ↓



4 ↓


7 →



3 ↓

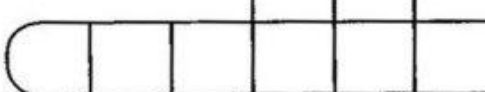


8 →



5 ↓

10 →



9 →



Verticais ↓

Horizontais →

1 bombeiro

6 tombo

2 campeão

7 bombom

3 lâmpada

8 compadre

4 tambor

9 bomba

5 campo

10 empada



COLÉGIO REINO DE JUDÁ

HÁ 20 ANOS PINTANDO UM MUNDO MELHOR

Quarentena
Inteligente 

ATIVIDADE DE REVISÃO

3º ano

Português

M **OU** **N**

Complete as palavras abaixo com **M** ou **N**.

CA____PINA

TRO____CO

CI____TURA

MA____SO

TA____BORETE

PO____BA

VALE____TE

I____POSTO

LI____PEZA

SEGU____DO

SEME____TE

E____BRULHAR

E____BLEMA

CA____BALHOTA

MORA____GO

PI____ÇAR

PIME____TA

E____BAIXO

TE____PESTADE

MA____DIOCA



#ficaemcasa

Coordenação Pedagógica






ATIVIDADE DE REVISÃO

3º ano

Português

FORME AS FRASES COM AS FIGURAS

1. O  DA MÔNICA É .

2. COMPREI UM QUILO DE .

3. NO ZOOLOGICO TEM **15** .

4. MEU  TEM **40** PEÇAS.

5. VOVÔ VENDEU **4** .



ATIVIDADE DE REVISÃO

3º ano

Matemática

Continue a sequência.

Em ordem crescente

10											
----	--	--	--	--	--	--	--	--	--	--	--

Agora escreva a mesma sequência em ordem decrescente.

--	--	--	--	--	--	--	--	--	--	--	--

Organize os números abaixo em ordem crescente.

120 42 20 200 75 30 150 40

--	--	--	--	--	--	--	--	--	--	--

Continue as sequências:

5	10			25						
---	----	--	--	----	--	--	--	--	--	--

	6			18						
--	---	--	--	----	--	--	--	--	--	--

4			16			28				
---	--	--	----	--	--	----	--	--	--	--



ATIVIDADE DE REVISÃO

3º ano

Matemática

5- COMPLETE A TABELA COM OS NÚMEROS QUE FALTAM.

1	2		4	5		7			10
	12	13		15			18		20
21			24			27		29	30
		33			36				
41				45					
		53					58		60
61								69	
	72				76				80



Estudamos também o **antecessor** e o **sucessor** dos números (**vizinhos**) e ordem crescente e decrescente.

6- COMPLETE COM O ANTECESSOR E O SUCESSOR (VIZINHOS) DOS NÚMEROS ABAIXO

_____ 11 _____

_____ 15 _____

_____ 23 _____

_____ 29 _____

_____ 33 _____

_____ 41 _____

_____ 47 _____

_____ 51 _____

_____ 58 _____

_____ 63 _____

_____ 70 _____

_____ 75 _____



ATIVIDADE DE REVISÃO

3º ano

Matemática

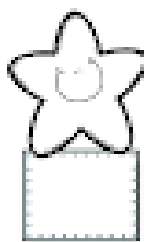

NÚMEROS ORDINAIS

PARA INDICAR ORDEM, POSIÇÃO OU LUGAR, UTILIZAMOS OS NÚMEROS ORDINAIS.

OS NÚMEROS ORDINAIS ATÉ O 10º SÃO:



INDIQUE COM O NUMERAL ORDINAL A POSIÇÃO QUE CADA DESENHO SE ENCONTRA NA SEQUÊNCIA.



AGORA COMPLETE.

A) A ESTRELA É O _____ ELEMENTO DA SEQUÊNCIA.

B) O PINGUIM É _____ ELEMENTO DA SEQUÊNCIA.

C) A _____ É O 4º ELEMENTO DA SEQUÊNCIA.

D) O 5º ELEMENTO DA SEQUÊNCIA É A _____.

E) A OVELHA É O _____ ELEMENTO DA SEQUÊNCIA.



ATIVIDADE DE REVISÃO


3º ano

Matemática



CRUZADINHA DA SEMANA

1) Encaixe, na cruzadinha, o que se pede abaixo:



A Vem antes de quinta-feira.

B É o primeiro dia da semana.

C É o último dia da semana.

D É o primeiro dia de aula da semana.

E Vem depois de quarta-feira.





ATIVIDADE DE REVISÃO

3º ano

Matemática



2. Com a ajuda de uma fita métrica, responda as seguintes questões:

a) Quantos centímetros têm o seu pé? ____ cm.

b) e o seu braço? ____ cm.

c) Quantos centímetros têm o seu lápis? ____ cm.

3. Vamos usar o metro articulado, como os passos e palmos.

a) Fique no canto da sua sala e dê passos largos até chegar na outra parede da frente. Agora me responda: Quantos passos você precisou dar? _____ passos.

b) Quantos palmos no seu caderno? ____ palmo(s).

4. Dê sugestões de outras coisas que podemos medir o seu comprimento?

--	--	--



ATIVIDADE DE REVISÃO

3º ano

Matemática

$$\begin{array}{r} 2 \\ 1 \\ + 2 \\ \hline \end{array}$$

$\begin{array}{r} 10 \\ + 25 \\ \hline \end{array}$	$\begin{array}{r} 54 \\ + 12 \\ \hline \end{array}$	$\begin{array}{r} 26 \\ + 22 \\ \hline \end{array}$	$\begin{array}{r} 53 \\ + 12 \\ \hline \end{array}$	$\begin{array}{r} 32 \\ + 31 \\ \hline \end{array}$
---	---	---	---	---

$\begin{array}{r} 40 \\ 16 \\ + 42 \\ \hline \end{array}$	$\begin{array}{r} 12 \\ 33 \\ + 13 \\ \hline \end{array}$	$\begin{array}{r} 18 \\ 1 \\ + 40 \\ \hline \end{array}$	$\begin{array}{r} 25 \\ 13 \\ + 21 \\ \hline \end{array}$	$\begin{array}{r} 14 \\ 14 \\ + 60 \\ \hline \end{array}$
---	---	--	---	---

$\begin{array}{r} 23 \\ 21 \\ + 3 \\ \hline \end{array}$	$\begin{array}{r} 21 \\ 60 \\ + 18 \\ \hline \end{array}$	$\begin{array}{r} 53 \\ 24 \\ + 11 \\ \hline \end{array}$	$\begin{array}{r} 20 \\ 26 \\ + 51 \\ \hline \end{array}$	$\begin{array}{r} 14 \\ 23 \\ + 51 \\ \hline \end{array}$
--	---	---	---	---

$\begin{array}{r} 4 \\ 35 \\ + 20 \\ \hline \end{array}$	$\begin{array}{r} 36 \\ 21 \\ + 31 \\ \hline \end{array}$	$\begin{array}{r} 22 \\ 5 \\ + 60 \\ \hline \end{array}$	$\begin{array}{r} 36 \\ 10 \\ + 43 \\ \hline \end{array}$	$\begin{array}{r} 22 \\ 40 \\ + 27 \\ \hline \end{array}$
--	---	--	---	---



ATIVIDADE DE REVISÃO

3º ano

Matemática

ARME E RESOLVA

$286 + 73$

C	D	U

$238 + 56$

C	D	U

$331 + 89$

C	D	U

$271 + 67$

C	D	U

$315 + 62$

C	D	U

$389 + 30$


C	D	U

$295 + 20$

C	D	U

$281 + 70$

C	D	U



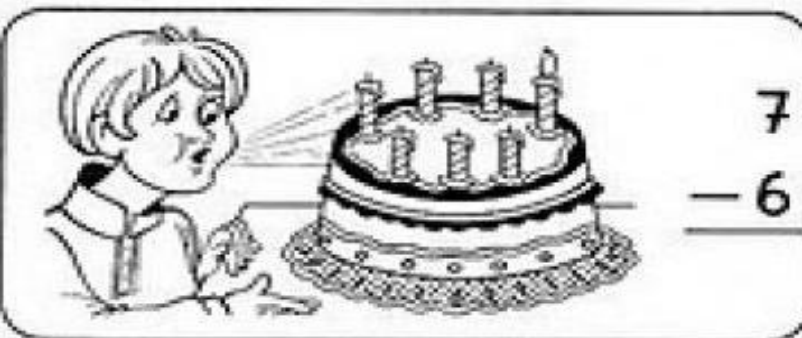


ATIVIDADE DE REVISÃO

3º ano

Matemática

Resolva as operações:



$$\begin{array}{r} 724 \\ -612 \\ \hline \end{array}$$

$$\begin{array}{r} 525 \\ -160 \\ \hline \end{array}$$

$$\begin{array}{r} 409 \\ -143 \\ \hline \end{array}$$

$$\begin{array}{r} 964 \\ -791 \\ \hline \end{array}$$

$$\begin{array}{r} 610 \\ -13 \\ \hline \end{array}$$

$$\begin{array}{r} 850 \\ -124 \\ \hline \end{array}$$

$$\begin{array}{r} 502 \\ -101 \\ \hline \end{array}$$

$$\begin{array}{r} 430 \\ -260 \\ \hline \end{array}$$

$$\begin{array}{r} 514 \\ -190 \\ \hline \end{array}$$

$$\begin{array}{r} 690 \\ -532 \\ \hline \end{array}$$

$$\begin{array}{r} 263 \\ -46 \\ \hline \end{array}$$

$$\begin{array}{r} 725 \\ -11 \\ \hline \end{array}$$

$$\begin{array}{r} 906 \\ -104 \\ \hline \end{array}$$

$$\begin{array}{r} 820 \\ -160 \\ \hline \end{array}$$

$$\begin{array}{r} 450 \\ -141 \\ \hline \end{array}$$

$$\begin{array}{r} 125 \\ -82 \\ \hline \end{array}$$

$$\begin{array}{r} 367 \\ -308 \\ \hline \end{array}$$

$$\begin{array}{r} 657 \\ -552 \\ \hline \end{array}$$

$$\begin{array}{r} 640 \\ -92 \\ \hline \end{array}$$

$$\begin{array}{r} 705 \\ -83 \\ \hline \end{array}$$